

Школьный этап Всероссийской олимпиады по географии

9 Класс

Итого 20,55
23,5

Тестовый тур 45

05 1. Какие районы России наиболее обеспечены водными ресурсами?

- 1) Среднее и Нижнее Поволжье;
- 2) Среднесибирское плоскогорье;
- 3) Приморский край, юго-восточное побережье Камчатки и южная половина острова Сахалин;
- 4) юг Европейской территории России.

05 2. Определите форму рельефа на территории России по описанию её геологической истории: «В основе этой равнины лежит плита, фундамент которой был создан в палеозое. В течение мезозоя и кайнозоя формировался осадочный чехол».

- 1) Восточно-Европейская равнина;
- 2) Западно-Сибирская равнина;
- 3) Среднесибирское плоскогорье;
- 4) Прикаспийская низменность.

15 3. В каком климатическом поясе расположена большая часть территории России?

- 1) арктическом;
- 2) субарктическом;
- 3) умеренном;
- 4) субтропическом.

4. Заполните пропуск, выбрав правильное число.

В настоящее время доля городского населения России составляет ... %?

- 1) 17,7;
- 2) 33,5;
- 3) 62,3;
- 4) 74,3.

5. Какие города России считаются вершинами треугольника, соответствующего главной полосе расселения?

- 1) Астрахань, Москва, Челябинск;
- 2) Архангельск, Ростов-на-Дону, Челябинск;
- 3) Иркутск, Санкт-Петербург, Сочи;
- 4) Мурманск, Омск, Ростов-на-Дону.

15 6. На предприятии какой угольной компании России добывается наибольшее количество угля?

- 1) «Кузбассразрезуголь»;
- 2) «Сибирская угольная энергетическая компания»;
- 3) «Южкузбассуголь»;

4) «Южный Кузбасс».

7. В структуре экспорта России 66 % занимает(-ют) ...

- 15
- 1) машины и оборудование;
 - 2) металлы и драгоценные камни;
 - 3) минеральное сырьё;
 - 4) продовольствие и сельскохозяйственное сырьё.

8. Какой российский город был родиной выдающихся мореходов и землепроходцев XVII – XIX вв.: В.В. Атласова, М.М. Булдакова, С.И. Дежнёва, В.И. Шилова?

- 05
- 1) Архангельск;
 - 2) Великий Новгород;
 - 3) Великий Устюг;
 - 4) Кострома.

9. Сколько времени будет в Норильске, когда там совершит посадку самолёт, вылетевший из Москвы в 13 часов? Расчётное время полёта составляет 5 часов.

- 15
- 1) 21 час;
 - 2) 22 часа;
 - 3) 18 часов;
 - 4) 16 часов.

10. Наиболее распространёнными горными породами для территории Центральной России являются:

- 15
- 1) известняки;
 - 2) строительные камни;
 - 3) пески и глины;
 - 4) базальты.

05

11. Первыми обогнули северо-восточную оконечность Азии и доказали, что Азия не соединяется с Северной Америкой, участники экспедиции под руководством:

- 1) В. Беринга и А. Чирикова;
- 2) С. Дежнёва и Ф. Попова;
- 3) Ф. Беллинсгаузена и М. Лазарева;
- 4) М. Гвоздева и И. Фёдорова.

15

12. Выберите крупнейший по численности населения народ России, говорящий на языке Уральско-Юкагирской семьи, доля которого в населении нашей страны составляет 0,5%:

- 1) аварцы;
- 2) мордва;
- 3) чуваша;
- 4) удмурты;

05

13. Великий русский ученый-энциклопедист Ломоносов М.В. писал, что «Богатство России....прирастать будет». Какой район нашей страны он имел в виду?

- 1) Дальний Восток;
- 2) Север;
- 3) Сибирь;
- 4) Урал.

05 14. Сколько крупных российских городов расположено на берегах р. Амур?

- 1) 4;
- 2) 6;
- 3) 8;
- 4) 12.

15. Плесецк (г. Мирный), Капустин Яр, Свободный. Выберите, к какой категории объектов по назначению они относятся:

- 1) крупные транспортные узлы;
- 2) места падения метеоритов;
- 3) это центры автомобилестроения;
- 4) это космодромы и центры испытания ракет и боевой техники.

Аналитический тур

66 7,5 Задание №1. На рисунках вы видите 4 сельскохозяйственные культуры, отличающиеся по условиям произрастания, сбора и использованию. Определите эти культуры и заполните таблицу.

<p>A</p> 	<p>B</p> 
<p>C</p> 	<p>D</p> 

Фото	Название сельскохозяйственной культуры	Страны-мировые лидеры по сбору культуры	Использование культуры
А	рис	Китай	пицца, кофе
В	хлопок	Китай	одежда, шитье
С	чай	Индия, Китай	чай
Д	кофе	Индия	напитки, корм

0,55
15

Задание №2. Школьники Алена и Иван собираются в летний полевой географический лагерь на Крымский берег Черного моря. Им предстоит изучить гидрологические особенности территории. Какие из перечисленных приборов пригодятся ребятам непосредственно для решения их задач? Внесите названия «полезных» приборов в таблицу, дав каждому из них краткую характеристику. Выберите из списка навигационные приборы, которыми путешественники пользовались в старину, объясните их назначение?

Курвиметр, психрометр, осадкомер, квадрант, барометр, астролябия, термометр, флюгер, нивелир, эхолот, портолан, анемометр, гироскоп, батометр, гигрометр, снегомерная рейка, бур, волнограф, GPS-навигатор, бус-соль, сейсмограф.

№ п/п	Прибор	Измеряемая характеристика	Единица измерения
	Термометр	температура	°C
	GPS-навигатор	место расположения	км

15

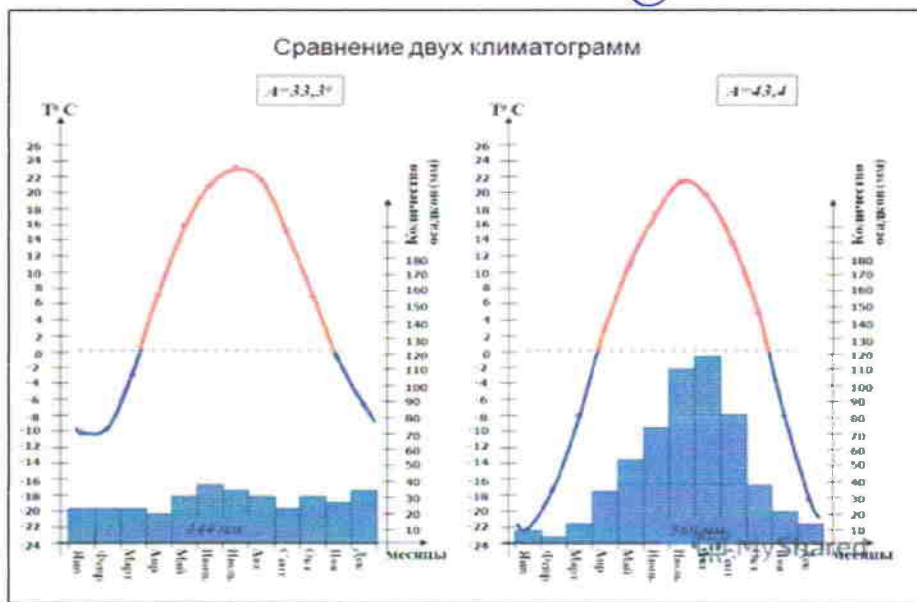
Назначение старинных навигационных приборов:

16

Задание №3. Какая из представленных климатограмм характеризует климат в Хабаровске? Приведите доводы.

X

Z



т.к. температуры показаны по центрам областей сходны с полярными.

05

Задание №4. Прочитайте стихотворение Андрея Усачева и ответьте на вопросы.

X – это природы каприз!
 Представьте, X создана из
 Горячих ключей, ледников и огня,
 Полярных ночей и полярного дня,
 Вулканов, что внутренним жаром объаты,
 А сверху закованы в снежные латы
 (А горы постарше, как старые бабки,
 Закутаны в снежные шали и шапки),
 Из гейзеров, вверх устремившихся, из
 Больших водопадов, стекающих вниз,
 Из теплой зимы и холодного лета...
 Ах, как изумительно вместе всё это!
 Что можно сравнить с этой дивной страной?
 Ну, разве – большой холодильник в парной!

1) Какой географический объект обозначен как X?

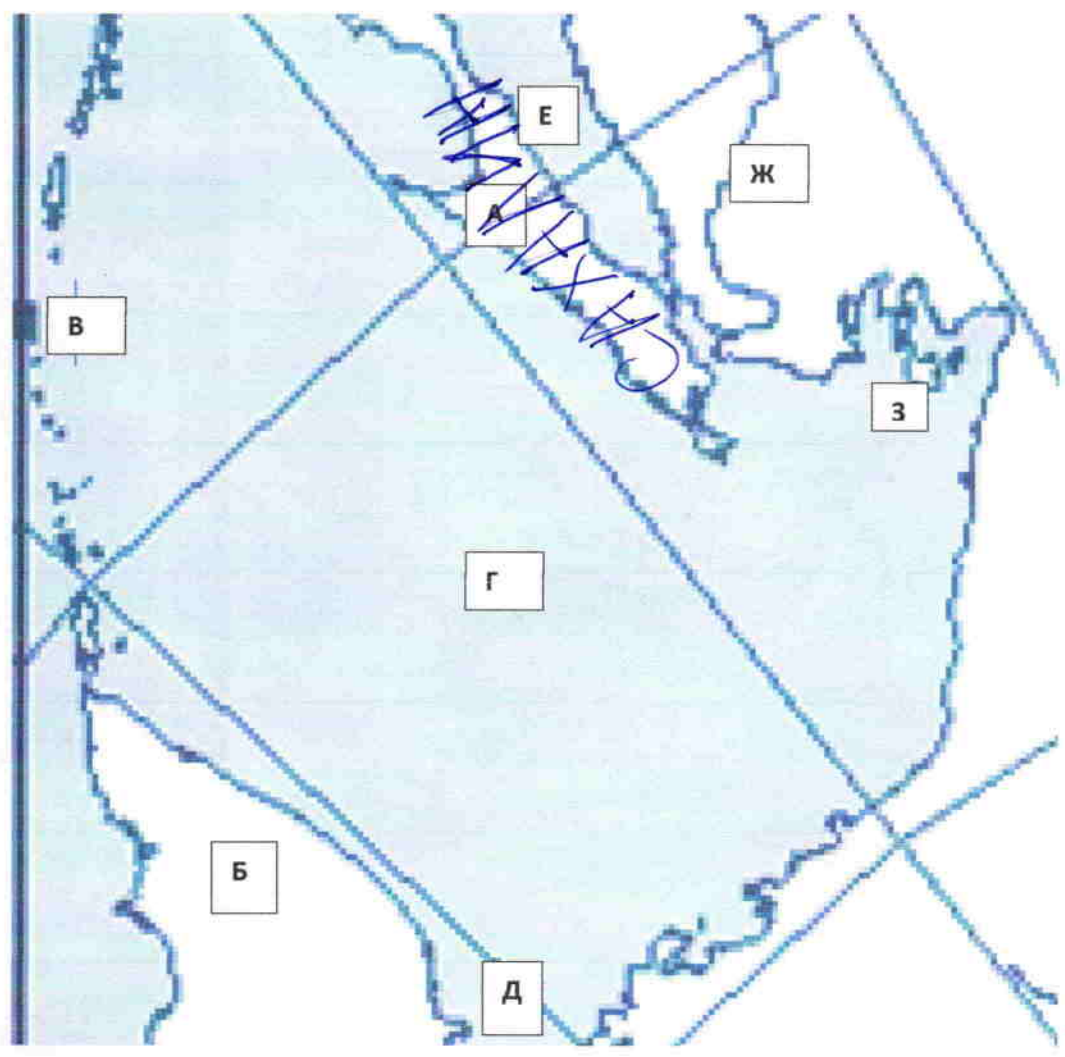
Россия

2) Какие природные особенности X привели к формированию вулканов и гейзеров?

горячие газы которые всегда поднимаются

3) Почему вулканы, которые «внутренним жаром объаты», покрыты снегами? это не отрицательные температуры.

75 **Задание №5.** Определите район, показанный на карте. Подпишите названия географических объектов, которые помогли вам это сделать (в таблице). Для фрагмента контурной карты (суша показана светлым цветом) стрелкой укажите направление на север.



	Буква на карте	Географический объект	Название	
1	А	остров	Сахалин	1б
2	Б	полуостров	Камчатка	1б
3	В	острова	Курильские	1б
4	Г	море	Японское	1б
5	Д	залив	Шумокова	1б
6	Е	пролив	Немурский	1б
7	Ж	река	Амур	1б
	З	архипелаг	Курильские	0б

Школьный этап Всероссийской олимпиады по географии

9 Класс

всего 408

Тестовый тур

Итого 24,5

85

08.

1. Какие районы России наиболее обеспечены водными ресурсами?

- 1) Среднее и Нижнее Поволжье;
- 2) Среднесибирское плоскогорье;
- 3) Приморский край, юго-восточное побережье Камчатки и южная половина острова Сахалин;
- 4) юг Европейской территории России.

08.

2. Определите форму рельефа на территории России по описанию её геологической истории: «В основе этой равнины лежит плита, фундамент которой был создан в палеозое. В течение мезозоя и кайнозоя формировался осадочный чехол».

- 1) Восточно-Европейская равнина;
- 2) Западно-Сибирская равнина;
- 3) Среднесибирское плоскогорье;
- 4) Прикаспийская низменность.

3. В каком климатическом поясе расположена большая часть территории России?

- 1) арктическом;
- 2) субарктическом;
- 3) умеренном;
- 4) субтропическом.

15

4. Заполните пропуск, выбрав правильное число.

В настоящее время доля городского населения России составляет ... %?

- 1) 17,7;
- 2) 33,5;
- 3) 62,3;
- 4) 74,3.

5. Какие города России считаются вершинами треугольника, соответствующего главной полосе расселения?

- 1) Астрахань, Москва, Челябинск;
- 2) Архангельск, Ростов-на-Дону, Челябинск;
- 3) Иркутск, Санкт-Петербург, Сочи;
- 4) Мурманск, Омск, Ростов-на-Дону.

15

6. На предприятии какой угольной компании России добывается наибольшее количество угля?

- 1) «Кузбассразрезуголь»;
- 2) «Сибирская угольная энергетическая компания»;
- 3) «Южкузбассуголь»;

15

4) «Южный Кузбасс».

7. В структуре экспорта России 66 % занимает(-ют) ...

- 15
- 1) машины и оборудование;
 - 2) металлы и драгоценные камни;
 - 3) минеральное сырьё;
 - 4) продовольствие и сельскохозяйственное сырьё.

8. Какой российский город был родиной выдающихся мореходов и землепроходцев XVII – XIX вв.: В.В. Атласова, М.М. Булдакова, С.И. Дежнёва, В.И. Шилова?

- 15
- 1) Архангельск;
 - 2) Великий Новгород;
 - 3) Великий Устюг;
 - 4) Кострома.

05. 9. Сколько времени будет в Норильске, когда там совершит посадку самолёт, вылетевший из Москвы в 13 часов? Расчётное время полёта составляет 5 часов.

- 1) 21 час; 2) 22 часа; 3) 18 часов; 4) 16 часов.

10. Наиболее распространёнными горными породами для территории Центральной России являются:

- 15
- 1) известняки;
 - 2) строительные камни;
 - 3) пески и глины;
 - 4) базальты.

05. 11. Первыми обогнули северо-восточную оконечность Азии и доказали, что Азия не соединяется с Северной Америкой, участники экспедиции под руководством:

- 1) В. Беринга и А. Чирикова;
- 2) С. Дежнёва и Ф. Попова;
- 3) Ф. Беллинсгаузена и М. Лазарева;
- 4) М. Гвоздева и И. Фёдорова.

05. 12. Выберите крупнейший по численности населения народ России, говорящий на языке Уральско-Юкагирской семьи, доля которого в населении нашей страны составляет 0,5%:

- 1) аварцы;
- 2) мордва;
- 3) чуваша;
- 4) удмурты;

15. 13. Великий русский ученый-энциклопедист Ломоносов М.В. писал, что «Богатство России....прирастать будет». Какой район нашей страны он имел ввиду?

- 1) Дальний Восток;
- 2) Север;
- 3) Сибирь;
- 4) Урал.

14. Сколько крупных российских городов расположено на берегах р. Амур?

- 18 1) 4; 2) 6; 3) 8; 4) 12.

05 15. Плесецк (г. Мирный), Капустин Яр, Свободный. Выберите, к какой категории объектов по назначению они относятся:

- 1) крупные транспортные узлы;
 2) места падения метеоритов;
 3) это центры автомобилестроения;
 4) это космодромы и центры испытания ракет и боевой техники.

Аналитический тур

~~05~~
 2
 3, 58 Задание №1. На рисунках вы видите 4 сельскохозяйственные культуры, отличающиеся по условиям произрастания, сбора и использованию. Определите эти культуры и заполните таблицу.




Фото	Название сельскохозяйственной культуры	Страны-мировые лидеры по сбору культуры	Использование культуры
A	рис	Япония	пицца
B	ячмень	Россия, Казахстан	пшеница
C	чай	Индия	пшеница
D	пшеница	Россия	варенье, пицца

25
1,56

25

Задание №2. Школьники Алена и Иван собираются в летний полевой географический лагерь на Крымский берег Черного моря. Им предстоит изучить гидрологические особенности территории. Какие из перечисленных приборов пригодятся ребятам непосредственно для решения их задач? Внесите названия «полезных» приборов в таблицу, дав каждому из них краткую характеристику. Выберите из списка навигационные приборы, которыми путешественники пользовались в старину, объясните их назначение?

Курвиметр, психрометр, осадкомер, квадрант, барометр, астролябия, термометр, флюгер, нивелир, эхолот, портолан, анемометр, гироскоп, батометр, гигрометр, снегомерная рейка, бур, волнограф, GPS-навигатор, бус-соль, сейсмограф.

№ п/п	Прибор	Измеряемая характеристика	Единица измерения
1	осадкомер	кол-во осадка	мм
2	термометр	измерение температуры воздуха	°C
3	GPS-навигатор	измерение широты и долготы	° широты, долготы
4	сейсмограф		

25.

05

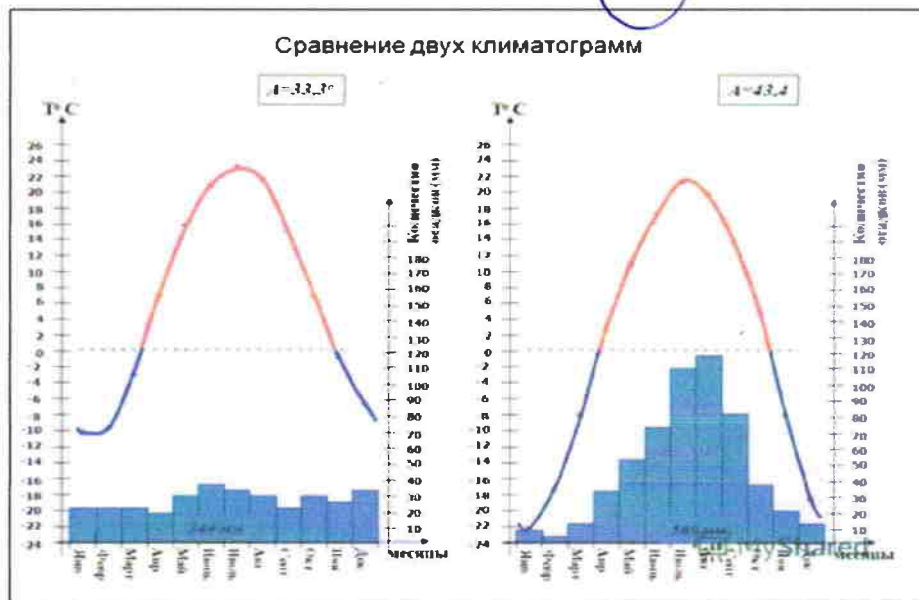
Назначение старинных навигационных приборов:

15.

Задание №3. Какая из представленных климатограмм характеризует климат в Хабаровске? Приведите доводы.

X

Z



0.5.
1.5

Задание №4. Прочитайте стихотворение Андрея Усачева и ответьте на вопросы.

X – это природы каприз!

Представьте, X создана из

Горячих ключей, ледников и огня,

Полярных ночей и полярного дня,

Вулканов, что внутренним жаром объята,

А сверху закованы в снежные латы

(А горы постарше, как старые бабки,

Закутаны в снежные шали и шапки),

Из гейзеров, вверх устремившихся, из

Больших водопадов, стекающих вниз,

Из теплой зимы и холодного лета...

Ах, как изумительно вместе всё это!

Что можно сравнить с этой дивной страной?

Ну, разве – большой холодильник в парной!

1) Какой географический объект обозначен как X?

Россия

2) Какие природные особенности X привели к формированию вулканов и гейзеров?

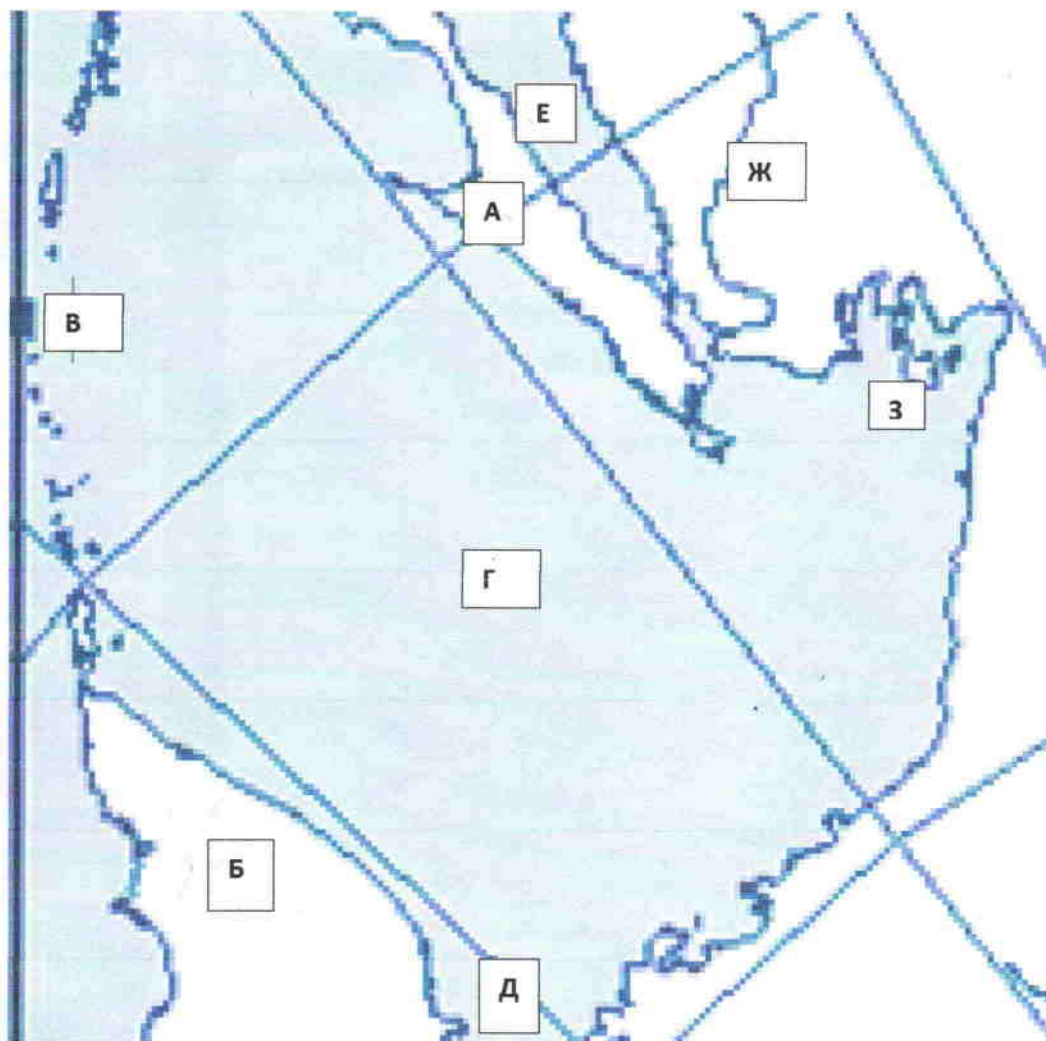
1.5

смещение магматических плит

1.5

3) Почему вулканы, которые «внутренним жаром объята», покрыты снегами? высокие горы потухшие вулканы.

45 Задание №5. Определите район, показанный на карте. Подпишите названия географических объектов, которые помогли вам это сделать (в таблице). Для фрагмента контурной карты (суша показана светлым цветом) стрелкой укажите направление на север.



Буква на карте	Географический объект	Название
1 А	остров	Суматра
2 Б	полуостров	Малаккский
3 В	острова	Андманские
4 Г	море	Андманское
5 Д	залив	Андманский
6 Е	пролив	Малаккский
7 Ж	река	Индус
8 З	архипелаг	Восточный